



COLÉGIO
MAURÍCIO
SALLES DE MELLO

Brasília, _____ de _____ de 20_____

Professor(a): _____

Aluno(a): _____

Ano: _____ Turma: _____

PLANO SEMANAL – 1º ANO
(Semana de 2 a 15 de junho de 2026)
A Copa do Mundo de Futebol

A Copa do Mundo reúne países de várias partes do mundo. Em 2026, a competição começará no dia 11 de junho e será realizada em três países: México, Estados Unidos e Canadá.

As mascotes da Copa do Mundo de 2026 são Maple, o alce do Canadá; Zayu, a onça do México; e Clutch, a águia dos Estados Unidos. Elas foram criadas para representar a alegria, a amizade e o espírito esportivo do evento.

Pinte com capricho as mascotes desta grande competição.



MAPLE
O ALCE DO CANADÁ




ZAYU
A ONÇA DO MÉXICO



CLUTCH
A ÁGUIA-CARECA DOS
ESTADOS UNIDOS

TERÇA-FEIRA: 02/06/2026

1. Escreva os nomes das figuras e pinte-as.



1. _____

2. _____

3. _____

4. _____

5. _____

6. _____

7. _____

8. _____

9. _____

10. _____

11. _____

12. _____

13. _____

14. _____

15. _____

2. Relacione as frases com as imagens.



- () Maria, Flora e Lívia estão brincando de pular corda.
- () Rafael, Renata e Liama estão brincando de pique-esconde.
- () Paulo e Carla estão brincando na gangorra.
- () Guilherme, Marcos e Léo estão brincando de bola.
- () Miguel está andando de patinete.
- () Julia, Clara e Elisa estão brincando com um bambolê.
- () Dofia está brincando de boneca.

Leitura do dia: Lá vem a simpática girafa.
Ela mora no zoológico.

QUARTA-FEIRA: 03/06/2026

😊 Faça a tarefa no Plano Semanal.

Leia: Ciça vive na roça.

Ela passeia na carroça de seu Antônio.

Durante o passeio, Ciça vê o açude, o moinho e o burro Paçoca.

Paçoca é muito manso e gosta de comer cenoura.

1- Qual é o nome da menina da história?

2- Onde Ciça vive?

3- Como Ciça passeia?

4- De quem é a carroça?

6- Circule, no texto, as palavras com "ç" e "nh", depois, escreva-as abaixo:

7 - Leia e separe as sílabas das palavras:

• Ciça: _____

• roça: _____

• carroça: _____

• açude: _____

• Paçoca: _____

• Carinho: _____

• moinho: _____

QUINTA-FEIRA: 04/06/2026

FERIADO

SEXTA-FEIRA: 05/06/2026


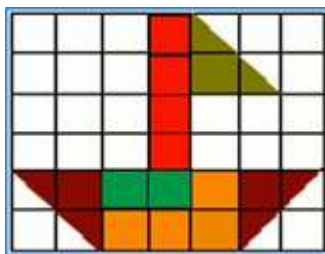
RECESSO

SEGUNDA-FEIRA: 08/06/2026

😊 Faça a tarefa no Plano Semanal.

Padrão geométrico é uma sequência de figuras que se repete seguindo uma regra. As figuras podem mudar de forma, cor ou tamanho, mas sempre obedecem à mesma ordem.

1- Observe a figura e copie o desenho na malha quadriculada, seguindo o mesmo padrão de formas. Escolha as cores e faça com capricho.



2- Continue o padrão e escreva as adições.



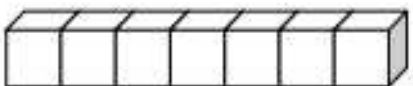
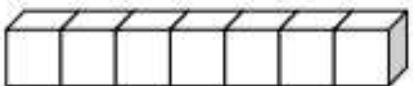
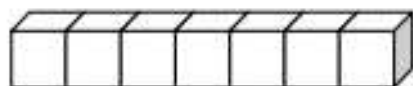
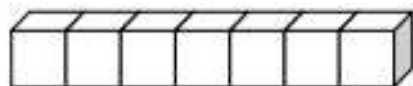
$$7 + 0 = 7$$



$$6 + 1 = \dots\dots\dots$$



$$5 + 2 = \dots\dots\dots$$



Leitura do dia:

andorinha – índio - enxada – anjo – banda - mundo - fazenda - onze – anta –
monte - tinta - laranja- domingo - mandioca.

2- Complete as operações com o sinal de "+" ou "-".

$$4 \square + 1 = 5$$

$$2 \square 1 = 1$$

$$4 \square 1 = 3$$

$$8 \square 1 = 9$$

$$5 \square 2 = 7$$

$$8 \square 1 = 7$$

$$5 \square 2 = 3$$


$$10 \square 2 = 8$$

$$2 \square 1 = 3$$

$$9 \square 1 = 10$$


Leitura do dia: Laís colocou o laço vermelho na boneca.
Alice comeu bolo de maçã.
O moço levou o feno na carroça.

QUARTA-FEIRA: 10/06/2026


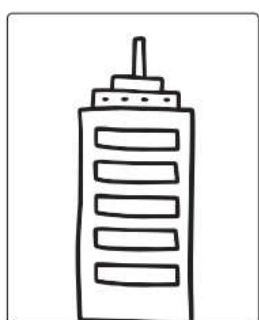

 Faça as atividades do livro de Ciências, páginas 102 e 103.

Leitura do dia: *pente – lente – barranco – bandeira - dente – banco - tamanco
elefante – andorinha – onça – morango – melancia*

QUINTA-FEIRA: 11/06/2026

 Faça a tarefa no Plano Semanal.

1- Pinte o tipo de moradia que mais se parece com a sua.



Você mora em qual tipo de moradia? _____

Quantos cômodos possui a sua residência? _____

Qual é o maior cômodo? _____

Qual é o menor cômodo? _____

2- Desenhe e pinte a sua casa.

Leitura do dia: Minha casa é maravilhosa!

Eu e minha família somos felizes em nossa casa.

SEXTA-FEIRA:12/06/2026

 Faça as atividades do livro de Geografia e História, páginas 81 a 85.

Leitura do dia: *A Laila tomou banho.*

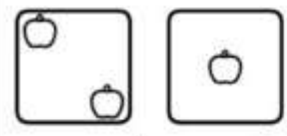
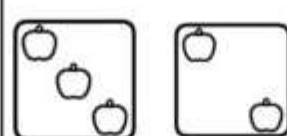
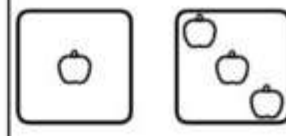
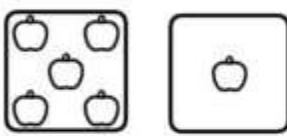
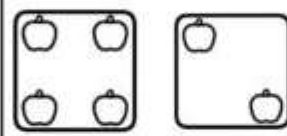
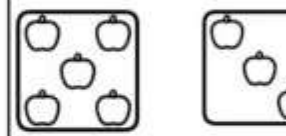
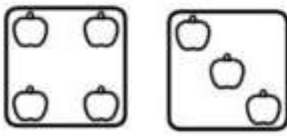
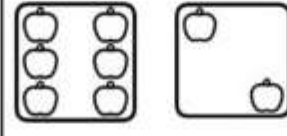
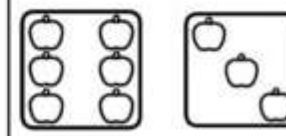
A galinha bicou a minhoca.

A ave voou até o ninho.

SEGUNDA-FEIRA:15/06/2026

😊 Faça a tarefa no Plano Semanal.

1- Resolva as adições e pinte os elementos com capricho.


 $\underline{\quad} + \underline{\quad} = \underline{\quad}$	 $\underline{\quad} + \underline{\quad} = \underline{\quad}$	 $\underline{\quad} + \underline{\quad} = \underline{\quad}$
 $\underline{\quad} + \underline{\quad} = \underline{\quad}$	 $\underline{\quad} + \underline{\quad} = \underline{\quad}$	 $\underline{\quad} + \underline{\quad} = \underline{\quad}$
 $\underline{\quad} + \underline{\quad} = \underline{\quad}$	 $\underline{\quad} + \underline{\quad} = \underline{\quad}$	 $\underline{\quad} + \underline{\quad} = \underline{\quad}$

2- Resolva as situações-problema.

a) Mamãe comprou 14 laranjas. Fez um suco e usou 8 laranjas. Quantas laranjas sobraram?

Cálculo: $\underline{\quad} - \underline{\quad} = \underline{\quad}$


Resposta _____



b) Numa árvore havia 11 pássaros, mas 5 voaram.

Quantos pássaros ficaram na árvore?

Cálculo _____ = _____



Resposta _____

Leitura do dia: ANITA É A BONECA DA LUANA.

ANITA É MUITO BONITA!

ELA TEM SAIA DE FILÓ E FITA NO CABELO.