



COLÉGIO
MAURICIO
SALLES DE MELLO

Brasília, _____ de _____ de 20 _____

Professor(a): _____

Aluno(a): _____

Ano: _____ Turma: _____

PLANO SEMANAL – 5º ANO

(Semana de 26 de maio a 01 de junho de 2026)

Livro do mês: *O Encontro da Cidade Criança com o Sertão Menino*. Marco Haurélio. Editora Brasil (Manter o livro na mochila para desenvolver o projeto literário)

TERÇA-FEIRA: 26/05/2026

LÍNGUA PORTUGUESA



Copie e resolva as atividades a seguir em seu caderno.

1. Destaque os verbos e informe a que conjugação pertencem.

- a) Fábio e Simone escreveram um lindo poema.
- b) Todos precisamos de amor e compreensão.
- c) O aniversariante distribuiu lembrancinhas.
- d) O policial interrogou o suspeito.
- e) Os engenheiros executam seu trabalho com muita atenção.

2. Informe o tempo em que se encontram os verbos destacados:


- a) Leonardo **brincava** com a bola, quando o temporal **desabou**.
- b) Meus familiares sempre se **reúnem** no Natal.
- c) A criança **precisará** de ajuda para executar a tarefa.
- d) Os jogadores **participaram** do jantar.
- e) **Sonhei** que **estava** na praia.

3. Use adequadamente -AM ou -ÃO para completar os verbos:

- a) Os pesquisadores trabalhar _____ exaustivamente ontem. Amanhã, eles descansar _____.
- b) Amanhã os meninos far _____ o trabalho que não fizer _____ ontem.
- c) Lucas e seu primo brincar _____ mais tarde, pois já estudar _____ o suficiente.

QUARTA-FEIRA: 27/05/2026

MATEMÁTICA

 Copie e resolva as questões a seguir em seu caderno e descubra a resposta de cada item.

1. Resolva os problemas utilizando expressões numéricas.

- a) Em um ônibus, que sai do Lago Norte para o aeroporto de Brasília, embarcaram 40 passageiros. Chegando na Asa Norte desceram 16 passageiros e entraram 18. Na Asa Sul desceram 8 e entraram 4. Quantas pessoas restaram para desembarcar no aeroporto de Brasília?
- b) Marco tem uma loja de doces e ele comprou 150 sacos de balas. Segunda feira, ele vendeu 60 e o entregador trouxe mais 24 sacos. Na terça-feira ele vendeu 105 sacos. Quantos sacos de doces ele ainda tem na loja?

2. Resolva as expressões abaixo:


- a) $2 + 8 - 3 - 5 + 15 =$
b) $40 : (8 + 2 \times 16) =$
c) $12 + [35 - (10 + 2) + 2] =$
d) $25 + \{ 12 + [2 - (8 - 6)] + 2 \} =$
e) $90 - 72 : 2 =$
f) $5 + 9 \times 4 - 12 =$
g) $32 \times 100 : (20 - 10) =$

HISTÓRIA

 Faça as atividades das páginas 96 e 97 do livro de História.

QUINTA-FEIRA: 28/05/2026

LÍNGUA PORTUGUESA


 Faça as atividades propostas na página 39 da apostila de ortografia.

GEOGRAFIA

 Faça as atividades das páginas 89 e 90 do livro de Geografia.


SEXTA-FEIRA: 29/05/2026

MATEMÁTICA


 Resolva as atividades da página 157 do livro de Matemática. Faça com organização e capricho!

SEGUNDA-FEIRA: 01/06/2026

CIÊNCIAS

 Leia com atenção e resolva o que está sendo pedido na atividade da página 106 do livro de Ciências. Faça seu trabalho com organização e capricho!

INGLÊS

 Faça as atividades da ficha anexada ao Plano Semanal.

Student: _____

Date: ____/____/____.

Mrs. Maria Clara



1. Read the sentence. Circle the correct answer.

a. I'm _____ than my brother. **tall / taller / more tall**

b. Apples are _____ than grapes. **bigger / big / biger**

c. Butterflies are _____ than flies. **More beautiful /**

beautifuler / most beautiful

d. My brother is _____ person in our amily! **Noisiest /**

the noisiest / noisy

e. That's _____ pizza I've ever eaten! **The most**

good / the goodest / the best

f. I think art is _____ subject. **the difficultest / the most**

difficult / difficultest