



C O L É G I O

**MAURICIO**  
**SALLES DE MELLO**

Brasília, \_\_\_\_\_ de \_\_\_\_\_ de 20 \_\_\_\_\_

Professor(a): \_\_\_\_\_

Aluno(a): \_\_\_\_\_

Ano: \_\_\_\_\_ Turma: \_\_\_\_\_

## **PLANO SEMANAL – 5º ANO** **(Semana de 19 a 25 de maio de 2026)**

**Livro do mês:** *O Encontro da Cidade Criança com o Sertão Menino*. Marco Haurélio. Editora Brasil.

**TERÇA-FEIRA: 19/05/2026**

### **LÍNGUA PORTUGUESA**

😊 Faça as atividades ortográficas propostas nas páginas 111 e 112 do livro de Língua Portuguesa (Emprego de onde e aonde).

**QUARTA-FEIRA: 20/05/2026**

### **MATEMÁTICA**

😊 Copie e resolva as questões a seguir em seu caderno e descubra a resposta de cada item.

1. Em 2018, a copa do mundo de futebol foi na Rússia com a participação de 32 seleções.

- a) Escreva todos os divisores de 32.
- b) Qual é o maior divisor de 32?

2. O número 108 é múltiplo de 9? Por quê?

3. Escreva os 6 primeiros múltiplos dos números a seguir:

- a) M (11) =
- b) M (13) =
- c) M (16) =

4. Escreva os divisores dos números a seguir:

- a) D (56) =

b) D (58) =

c) D (63) =

## HISTÓRIA



Copie e resolva as atividades a seguir em seu caderno.

1. Qual das leis abaixo é a Lei Eusébio de Queirós?

- a) ( ) Lei que libertou todos os escravos do Brasil.
- b) ( ) Lei que proibiu o tráfico de escravos para o Brasil.
- c) ( ) Lei que obrigava os indígenas a trabalharem nas fazendas.
- d) ( ) Lei que trouxe trabalhadores do campo para as cidades.

2. A existência de numerosos quilombos espalhados por diferentes regiões do Brasil revela que:

- a) ( ) Os escravos eram sempre fiéis aos seus senhores.
- b) ( ) Os escravos resistiram à opressão da escravidão.
- c) ( ) Os escravos do Nordeste eram os únicos que fugiam.
- d) ( ) Os escravos que fugiam eram, todos, caçados e assassinados.

**QUINTA-FEIRA: 21/05/2026**

## LÍNGUA PORTUGUESA



Faça as atividades propostas na página 38 da apostila de ortografia.

**OBSERVAÇÃO:** Traga o livro *O Encontro da Cidade Criança com o Sertão Menino* para participar da roda de conversa e fazer a ficha de análise literária.

## GEOGRAFIA



Copie e resolva as atividades a seguir em seu caderno.

1. Marque a alternativa que apresenta a forma de relevo predominante do bioma Pantanal.

( ) Montanha      ( ) Planície      ( ) Serra      ( ) Chapadão

2. Marque a alternativa que apresenta a importância de se estudar o relevo.

- ( ) O relevo armazena os fósseis e os registros históricos.
- ( ) O relevo informa o adensamento populacional.
- ( ) O relevo estabelece os limites das propriedades privadas.
- ( ) O relevo interfere no clima e na vegetação.

SEXTA-FEIRA: 22/05/2026

## MATEMÁTICA

😊 Copie e resolva as questões a seguir em seu caderno e descubra a resposta de cada item.

1. Classifique as frações abaixo em própria, imprópria ou aparente:

a)  $\frac{5}{8}$

b)  $\frac{32}{11}$

c)  $\frac{1}{3}$

d)  $\frac{18}{6}$

e)  $\frac{15}{15}$

Leia com atenção as atividades a seguir e marque a alternativa correta.

2. Numa prova com 72 questões, sabe-se que Augusto acertou  $\frac{3}{8}$  delas. Mauro acertou  $\frac{5}{9}$  e Flávio errou  $\frac{5}{12}$  das questões. Pode-se afirmar que:

- a) Mauro acertou menos questões que Augusto.
- b) Augusto acertou mais questões que Flávio.
- c) Augusto acertou menos questões que Mauro.
- d) Flávio acertou mais questões que Mauro.

3. Qual entre as frações seguintes é equivalente a  $\frac{24}{45}$  ?

a)  $\frac{56}{105}$


b)  $\frac{48}{90}$

c)  $\frac{72}{180}$


d)  $\frac{3}{5}$

**SEGUNDA-FEIRA: 25/05/2026**

### **CIÊNCIAS**

 Leia com atenção o que está sendo solicitado nas atividades da página 99 do livro de Ciências e resolva o que se pede. Faça seu trabalho com organização e capricho!

### **INGLÊS**

 Faça as atividades da ficha anexada ao Plano Semanal.

Student: \_\_\_\_\_

Date: \_\_\_\_\_ / \_\_\_\_\_ / \_\_\_\_\_.

Mrs. Maria Clara




**A. Use the words from the box to fill in the blanks**

mold - test - nature - spores - investigate - decomposes

1. In a science experiment you \_\_\_\_\_ and \_\_\_\_\_ an idea.
2. \_\_\_\_\_ is a kind of fungus. It grows from tiny \_\_\_\_\_ that float in the air.
3. Mold is useful in \_\_\_\_\_. It \_\_\_\_\_ dead animals and plants.

**B. Explain how mold feeds itself using the words from the box.**

nutrients - rot - chemicals - grow - spread



1. Mold produces \_\_\_\_\_ that make the bread start to \_\_\_\_\_.

2. The bread releases \_\_\_\_\_ that causes the mold to \_\_\_\_\_.

3. The mold growth \_\_\_\_\_ across the bread.